


БРОЈ ДВА

2


2	2								
---	---	--	--	--	--	--	--	--	--

Попуни све квадратиће:


2 авиона




Нацртај 2 елемента у скупу:



2



2



2

Заокружи тачне резултате:

$1+1=2$ $2+1=2$ $2+0=2$ $1+4=2$

$7-5=2$ $7-4=2$ $4-1=2$ $5-2=2$

$8-6=2$ $9-7=2$ $9-5=2$ $10-8=2$

